

Nom _____

Voici ce que je sais en maths

3^{ème} année

lundi Quel mois vient après:

avril _____

juin _____

septembre _____

décembre _____

mars _____

juillet _____

novembre _____

janvier _____

août _____

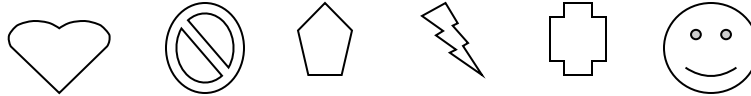
mai _____

octobre _____

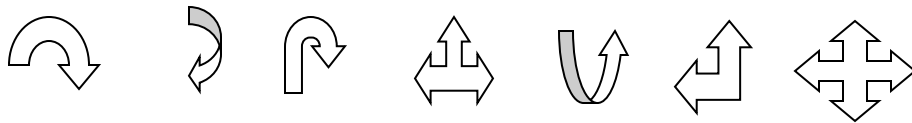
février _____

mardi Encerle l'image qui est :

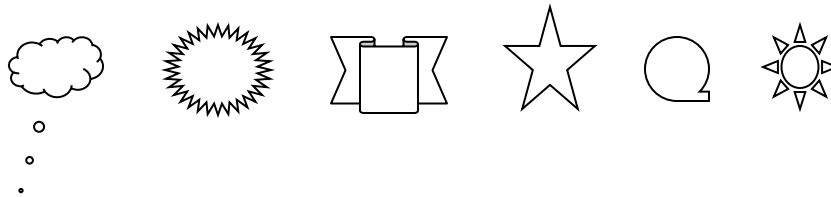
1.) deuxième



2.) cinquième



3.) troisième



jeudi

Peux-tu résoudre ces équations en moins de 2 minutes? Demande à un adulte de te minuter.

1.) $4 + \underline{\quad} = 10$

2.) $7 + \underline{\quad} = 10$

3.) $\underline{\quad} + 7 = 10$

4.) $2 + \underline{\quad} = 10$

5.) $5 + 5 = \underline{\quad}$

6.) $10 = \underline{\quad} + 6$

7.) $3 + \underline{\quad} = 10$

8.) $10 = 9 + \underline{\quad}$

9.) $\underline{\quad} + 8 = 10$

10.) $1 + \underline{\quad} = 10$

11.) $2 + \underline{\quad} = 10$

12.) $10 + \underline{\quad} = 10$